








Auxiliar em Administração

Inscrição nº:



MINISTÉRIO DA EDUCAÇÃO
UNIVERSIDADE FEDERAL DE PELOTAS - CGIC
Concurso Público (Aplicação: 09/06/2013)
Cargo: Auxiliar em Administração/Classe C-101

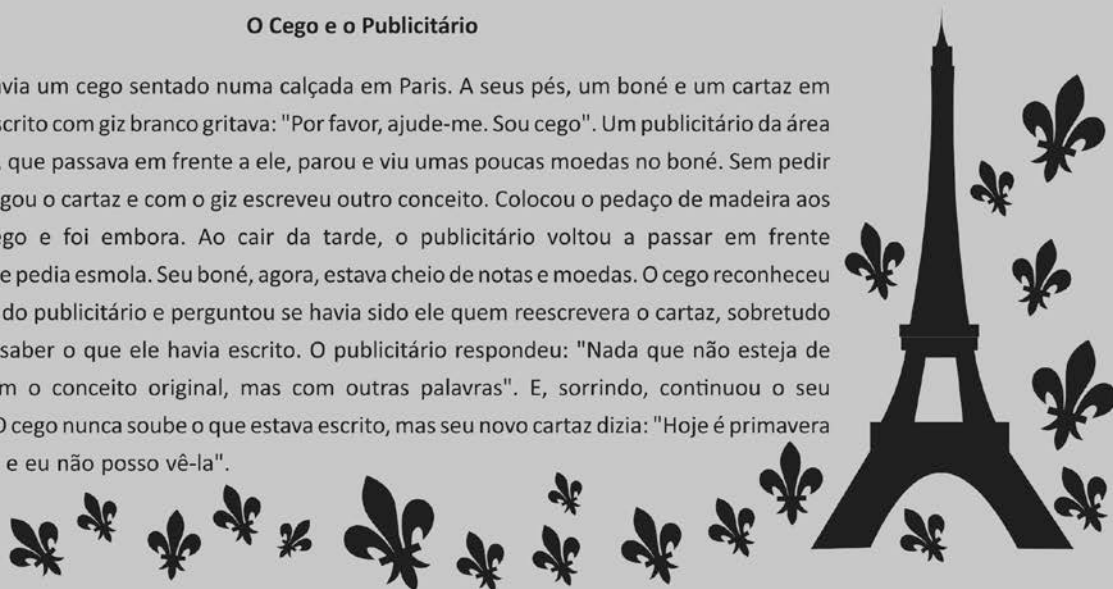
LEIA ATENTAMENTE AS SEGUINTE INSTRUÇÕES:

- Verifique, nos espaços devidos do CARTÃO-RESPOSTA, se o número de controle é o mesmo que está ao lado do seu nome na folha de chamada. Caso o número de controle não corresponda ao que está nessa folha, comunique imediatamente ao fiscal de prova. Não se esqueça de assinar seu nome no primeiro retângulo.
- Marque as respostas das questões no CARTÃO-RASCUNHO, a fim de transcrevê-las, com caneta esferográfica azul ou preta, de ponta grossa, posteriormente, no CARTÃO-RESPOSTA.
- Ao transcrever suas respostas para o CARTÃO-RESPOSTA, preencha completamente o alvéolo, como indicado na figura, . Nunca assim  
 , pois você corre o risco de ter sua questão anulada.
- Não pergunte nada ao fiscal, pois todas as instruções estão na prova. Lembre-se de que uma leitura competente é requisito essencial para a realização da prova.
- Não rasure, não amasse nem dobre o CARTÃO-RESPOSTA, para que ele não seja rejeitado pela leitora.

Para responder às questões de números 01 a 07, considere o texto a seguir.

O Cego e o Publicitário

Havia um cego sentado numa calçada em Paris. A seus pés, um boné e um cartaz em madeira escrito com giz branco gritava: "Por favor, ajude-me. Sou cego". Um publicitário da área de criação, que passava em frente a ele, parou e viu umas poucas moedas no boné. Sem pedir licença, pegou o cartaz e com o giz escreveu outro conceito. Colocou o pedaço de madeira aos 5 pés do cego e foi embora. Ao cair da tarde, o publicitário voltou a passar em frente ao cego que pedia esmola. Seu boné, agora, estava cheio de notas e moedas. O cego reconheceu as pisadas do publicitário e perguntou se havia sido ele quem reescrevera o cartaz, sobretudo querendo saber o que ele havia escrito. O publicitário respondeu: "Nada que não esteja de acordo com o conceito original, mas com outras palavras". E, sorrindo, continuou o seu 10 caminho. O cego nunca soube o que estava escrito, mas seu novo cartaz dizia: "Hoje é primavera em Paris... e eu não posso vê-la".



Disponível em http://portaldapropaganda.com/marketing/meu_conceito/2004/07/0001 - Acesso em 03 set. de 2012. (adaptado)

01.

Em muitas narrativas, há uma frase final contendo o ensinamento que se quer passar através do texto, a chamada moral da história. Para o texto lido, qual das frases a seguir pode ser empregada como moral da história?

- a) Quem dá aos pobres empresta a Deus.
- b) Sem uma boa rede, não se apanha peixe.
- c) A palavra é prata; o silêncio é ouro.
- d) Quando a esmola é grande, até o santo desconfia.
- e) Em terra de cego, quem tem um olho é rei.

02.

Nas reescritas a seguir, a posição dos termos do primeiro período (ℓ. 1) foi alterada. Em qual das novas frases não há, segundo a gramática, obrigatoriedade de vírgula(s)?

- a) Havia em Paris numa calçada um cego sentado.
- b) Em Paris havia um cego sentado numa calçada.
- c) Em Paris numa calçada havia um cego sentado.
- d) Sentado numa calçada em Paris havia um cego.
- e) Numa calçada em Paris havia um cego sentado.

03.

Assinale verdadeiro (V) ou falso (F) em cada afirmativa.

- () Para identificar os dois personagens centrais, o cego e o publicitário, é feita referência à ocupação profissional deste e à condição física daquele.
- () Dentre os verbos gritava (ℓ.2), perguntou (ℓ.7) e respondeu (ℓ.8), apenas um não se relaciona com a interação oral entre o pedinte e o seu benfeitor.
- () O aumento das notas e moedas no boné provocou a escolha de palavras certas feita pelo publicitário.

A sequência correta é

- a) V - V - F.
- b) F - F - V.
- c) V - F - F.
- d) V - F - V.
- e) F - V - F.

04.

A bem-sucedida estratégia do publicitário consistiu em

- a) insistir na limitação física do pedinte, apelando à piedade e à generosidade dos moradores de Paris.
- b) eliminar os erros gramaticais do cartaz, mostrando a desumana condição de um cego nas ruas de Paris.
- c) concretizar uma situação limitadora do pedinte, contrastando com o privilégio usufruído pelos passantes nas ruas de Paris.
- d) retificar o conceito utilizado pelo pedinte, apresentando-o como merecedor de recompensa, especialmente na primavera.
- e) substituir a escrita do pedinte, indicando a ação esperada dos passantes, especialmente na primavera.

05.

No texto, estão destacadas com aspas as versões escritas a giz no cartaz usado pelo cego. As frases são coerentes com o contexto da comunicação, e a sua análise mostra que

- a) as duas versões empregam o padrão culto da língua.
- b) a primeira versão está adequada à coloquialidade de uma conversa de rua.
- c) as duas versões exploram o imperativo como estratégia de expressão do apelo.
- d) a segunda versão está adequada a um registro mais espontâneo da língua.
- e) a segunda versão destaca palavras denotadoras do sentimento de compaixão.

06.

Analise as afirmativas a seguir.

- I - A expressão o esmoleiro poderia, sem prejuízo da coesão e da coerência, substituir, na linha 5, “o cego”.
- II - As expressões fora, havia reescrito e escrevera poderiam substituir, respectivamente, “ havia sido” (ℓ.7), “ reescrevera” (ℓ.7) e “ havia escrito” (ℓ.8), sem prejuízo da coerência narrativa e da correção gramatical.
- III - O emprego de “seu”, na linha 9 e na linha 10 possibilita a retomada de cego e de publicitário, respectivamente.

Está(ão) correta(s)

- a) apenas I.
- b) apenas III.
- c) apenas I e II.
- d) apenas II e III.
- e) I, II e III.

07.

O verbo pedir aparece como parte da expressão “Sem pedir licença” (ℓ.3-4) e, na linha 6, ele é usado num contexto semelhante ao do verbo esmolar. Em muitas situações cotidianas, inclusive na esfera profissional, empregam-se verbos para pedir algo, porém com sentidos variados. Tendo em mente esses usos, associe as colunas.

- 1. Exigir
- 2. Interceder () Pedir algo com insistência ou com extrema humildade
- 3. Reclamar () Pedir algo em favor de alguém
- 4. Requerer () Pedir algo em razão de direito não atendido
- 5. Rogar () Pedir algo garantido em lei

A sequência correta é

- a) 3 - 1 - 2 - 4.
- b) 5 - 1 - 4 - 3.
- c) 3 - 4 - 1 - 5.
- d) 4 - 2 - 1 - 3.
- e) 5 - 2 - 3 - 4.

Na narrativa, o cego vale-se de um cartaz para se comunicar; do mesmo modo, no cotidiano, recorre-se a esse expediente para se estabelecerem variadas interações. Tendo isso em mente, leia os cartazes a seguir para responder às questões de números 08 a 11.

I



Disponível em <http://www.bombasul.com.br>. Acesso em 04 set. 2012.

II



Disponível em <http://usemaisnaoabuse.blogspot.com.br>. Acesso em 04 set. 2012.

III



Disponível em <http://energiaconsciente.blogspot.com.br>. Acesso em 04 set. 2012.

IV



Disponível em <http://www.lojaodasplacas.com.br>. Acesso em 04 set. 2012.

08.

O procedimento para economizar energia está explicitado na parte verbal do cartaz

- a) em I e II, apenas.
- b) em I e IV, apenas.
- c) em II e III, apenas.
- d) em I, III e IV, apenas.
- e) em II, III e IV, apenas.

09.

A conjunção “Se” contribui para o sentido do cartaz I, estabelecendo uma relação de

- a) oposição.
- b) conclusão.
- c) concessão.
- d) condição.
- e) comparação.

10.

Marque verdadeiro (V) ou falso (F) em cada afirmativa.

- () No cartaz II, a partícula “ só” tem o mesmo sentido que apenas ou somente.
- () No cartaz III, emprega-se “ essa ideia” como recurso de retomada de toda a frase anterior.
- () Nos cartazes II e III, as palavras “ acesas” e “Acenda” estão empregadas no sentido denotativo.
- () No cartaz IV, “ sua parte” se refere à participação do leitor na campanha de economia de energia.

A sequência correta é

- a) V - F - V - F.
- b) F - V - V - F.
- c) V - F - F - V.
- d) F - F - V - F.
- e) V - V - F - V.

11.

Observando-se a coesão e a modalidade culta da língua escrita, qual sequência completa adequadamente a frase a seguir?

Se não estiver usando os equipamentos e as lâmpadas,

- a) desligue eles.
- b) desligue-as.
- c) desligue elas.
- d) desligue-os.
- e) desligue as mesmas.

12.

O cartaz a seguir é parte de uma campanha para economia de energia elétrica.



Disponível em <http://holisi.blogspot.com.br/2010/08/ao-sair-apague-luz.html> (adaptado). Acesso em 04 set. 2012.

Que análise está de acordo com a organização do texto?

- a) No apelo ao destinatário, as escolhas verbais se apresentam em terceira pessoa.
- b) O agente das ações verbais está expresso como sujeito indeterminado.
- c) A consequência da ação solicitada fica explícita na expressão verbal.
- d) O momento de desligar a luz está indeterminado.
- e) O sentido de ordem e comando fica claro com o emprego do subjuntivo.

Para responder às questões de números 13 e 14, leia o que segue.

Modo econômico de energia

- ✓ Quando o computador está inativo, habilita uma rápida conexão a cada 30 minutos.

13.

No contexto, “habilita” tem o mesmo sentido de

- a) desativa.
- b) recupera.
- c) perde.
- d) possibilita.
- e) estabelece.

14.

Considere uma reescrita mais resumida de parte do texto:

Inativo, o computador, a cada 30 minutos, habilita uma rápida conexão.

Se, nessa versão, “computador” for substituído por equipamentos, essa alteração permite pluralizar mais

- a) uma palavra, apenas.
- b) duas palavras, apenas.
- c) três palavras, apenas.
- d) quatro palavras, apenas.
- e) cinco palavras, apenas.

15.

Nas frases a seguir, os pronomes seu, seus ou sua expressam uma relação de posse; no entanto, o emprego de um deles provocou um problema de ambiguidade. Assinale a frase onde esse problema ocorreu.

- a) O médico, ao final da consulta, devolveu a João os seus exames.
- b) Os amigos cumprimentaram Teresa pelo seu excelente desempenho na prova prática.
- c) Antes das 8h, os candidatos e o fiscal já estavam todos em seus lugares.
- d) Apreensivos, os alunos solicitaram ao Coordenador sua posição sobre o polêmico projeto.
- e) Nervosa, Mariana confirmou a Joaquim o desaparecimento de sua irmã.

MATEMÁTICA



Para responder às questões de números 16 e 17, leia o texto a seguir.

Segundo levantamento da Associação Brasileira de Empresas de Limpeza Pública e Resíduos Especiais (Abrelpe), os brasileiros produziram, em 2010, 61 milhões de toneladas de resíduos sólidos urbanos (RSU).

Veja na tabela abaixo a quantidade de lixo produzido no Rio Grande do Sul, em 2010, segundo a Abrelpe.

| Estado | RSU gerado (tonelada/dia) | RSU coletado (tonelada/dia) | Destinação final adequada | Lixo coletado (kg/habitante/dia) |
|--------|---------------------------|-----------------------------|---------------------------|----------------------------------|
| RS | 7.960 | 7.302 | 69,5% | 0,802 |

Disponível em <http://g1.globo.com/brasil/noticia/2011/04> (adaptado). Acesso em 06 set. 2012.

16.

De acordo com os dados, qual é a quantidade de lixo coletado, em toneladas, que uma cidade do Rio Grande do Sul com aproximadamente 100 mil habitantes produz por dia?

- a) 8,02
- b) 80,2
- c) 802
- d) 8.020
- e) 80.200

17.

Dos Resíduos Sólidos Urbanos (RSU) gerados no Rio Grande do Sul, qual foi a quantidade, em toneladas por dia, que não teve a destinação final adequada?

- a) 2.227,11
- b) 2.327,45
- c) 2.427,80
- d) 5.074,89
- e) 5.532,20

18.

Segundo os dados do Relatório de Gestão - 2011 da Universidade Federal de Pelotas (UFPel), o número de ingressos e egressos de servidores ativos de carreira vinculados à Pró-reitoria de Recursos Humanos, no exercício de 2011, são iguais a 177 e 59, respectivamente.

Qual é a razão entre o número de servidores egressos e ingressos na UFPel em 2011?

- a) 0,3
- b) 0,333...
- c) 3,0
- d) 3,3
- e) 3,333...

19.

Uma sala que será reformada possui no assoalho 100 tábuas de 2 m de comprimento por 20 cm de largura. Com a reforma, as tábuas serão substituídas por peças quadradas de porcelanato de 50 cm de lado. O número de peças de porcelanato necessárias e suficientes para a reforma da sala é igual a

- a) 80.
- b) 100.
- c) 160.
- d) 250.
- e) 320.

20.

A crise em países desenvolvidos e a falta de mão de obra no Brasil abriram espaço para a imigração de trabalhadores estrangeiros. De acordo com dados do Ministério do Trabalho e Emprego, foram registrados, em 2011, a concessão de 70.500 vistos de trabalho, enquanto, em 2009, esse número é de 43.000.

Admitindo-se que esse crescimento se mantenha para os próximos anos, a previsão para o número de vistos de trabalho no Brasil em 2013 é

- a) 84.250.
- b) 86.750.
- c) 98.000.
- d) 113.500.
- e) 125.500.

21.

Em agosto de 2012, o preço da cesta básica subiu em 15 das 17 capitais pesquisadas pelo Departamento Intersindical de Estatística e Estudos Socioeconômicos (Dieese). A cesta básica mais cara do país é a de Porto Alegre, que custa, em média, R\$ 308,27. Em agosto de 2011, o preço da cesta básica registrado em Porto Alegre foi, em média, de R\$ 271,25.

Conforme esses dados, nos últimos 12 meses, de setembro de 2011 a agosto de 2012, o custo médio da cesta básica em Porto Alegre teve um aumento de aproximadamente

- a) 12,6%.
- b) 12,8%.
- c) 13,4%.
- d) 13,6%.
- e) 14,8%.

22.

Uma loja que administra cartões disponibiliza a seus clientes um crédito de R\$ 1.500,00 no saque fácil. O pagamento desse valor deverá ser feito em 6 parcelas de R\$ 359,25.

Qual é o valor total de juros cobrados pela loja?

- a) R\$ 359,25
- b) R\$ 500,50
- c) R\$ 605,50
- d) R\$ 655,50
- e) R\$ 665,25

23.

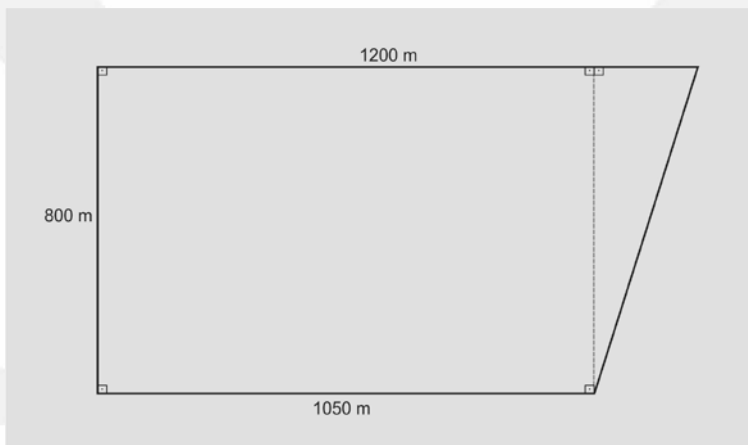
Para fazer investimentos em sua empresa, um jovem empreendedor faz um empréstimo no valor de R\$ 10.000,00 em um banco público. Os juros compostos são de 8% ao ano e o pagamento deverá ser feito em 36 meses.

Qual é o montante que o jovem irá pagar para quitar todo o empréstimo no prazo previsto?

- a) R\$ 11.664,00
- b) R\$ 12.299,52
- c) R\$ 12.597,12
- d) R\$ 13.299,52
- e) R\$ 13.597,12

Para responder às questões de números 24 e 25, leia o texto a seguir.

Além de garantir o alimento mais saudável, a agricultura orgânica tem proporcionado emprego e renda a muitas famílias da zona rural. Para cultivar produtos orgânicos, um produtor utiliza uma região conforme indicada na figura.



24. _____

Qual é a área, em m^2 , da região utilizada no cultivo?

- a) $8,4 \times 10^5$
- b) $9,0 \times 10^5$
- c) $9,6 \times 10^5$
- d) $9,0 \times 10^6$
- e) $9,6 \times 10^6$

25. _____

Quantos metros lineares de tela são necessários e suficientes para cercar toda a região?

- a) 3.050
- b) 3.054
- c) 3.151
- d) 3.854
- e) 3.864

Use: $\sqrt{6.625} = 81,4$

26.

Em uma loja de produtos orgânicos, as geleias são vendidas em potes cilíndricos com 10 cm de diâmetro e 10 cm de altura.

Qual é o volume, em cm^3 , de cada pote?

Use: $\pi = 3,14$

- a) 625
- b) 745
- c) 785
- d) 845
- e) 985

27.

O tomate é um alimento comum e muito tradicional na mesa brasileira. Em pesquisa de preço realizada em seis mercados de uma cidade, o preço do quilo do tomate longa vida ficou entre R\$ 4,48 e R\$ 7,78. A tabela mostra os valores obtidos na pesquisa.

| Mercado | A | B | C | D | E | F |
|-----------------------|------|------|------|------|------|------|
| Tomate | | | | | | |
| Preço por kg (em R\$) | 5,98 | 4,48 | 4,98 | 7,78 | 6,28 | 4,76 |

Qual é o preço médio do tomate, por kg, registrado na pesquisa?

- a) R\$ 5,71
- b) R\$ 5,74
- c) R\$ 5,82
- d) R\$ 5,90
- e) R\$ 5,95

28.

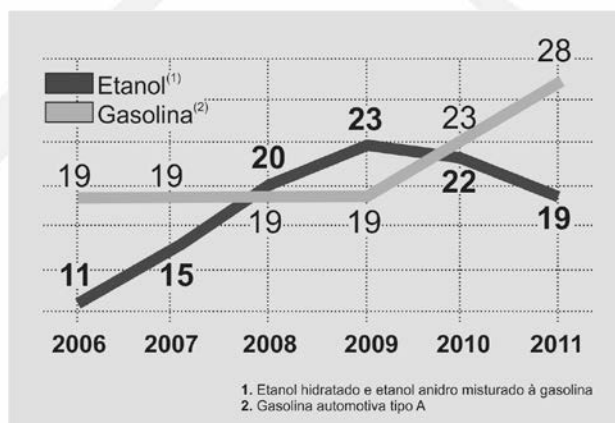
A irrigação de culturas é uma alternativa que garante a produção em anos com estiagens, quando as perdas nas safras são comuns. Suponha que um reservatório a ser utilizado para implantação de um sistema de irrigação tenha o formato retangular de 10 m por 8 m, com 3 m de profundidade.

Qual é a capacidade, em litros, desse reservatório?

- a) 240.000
- b) 80.000
- c) 24.000
- d) 8.000
- e) 2.400

29.

O gráfico mostra a evolução no consumo de combustíveis (etanol e gasolina), em bilhões de litros, comercializados pelas distribuidoras no Brasil.



Fonte: Revista Exame – Melhores e maiores. Ed. Especial, jul. 2012, p. 125.

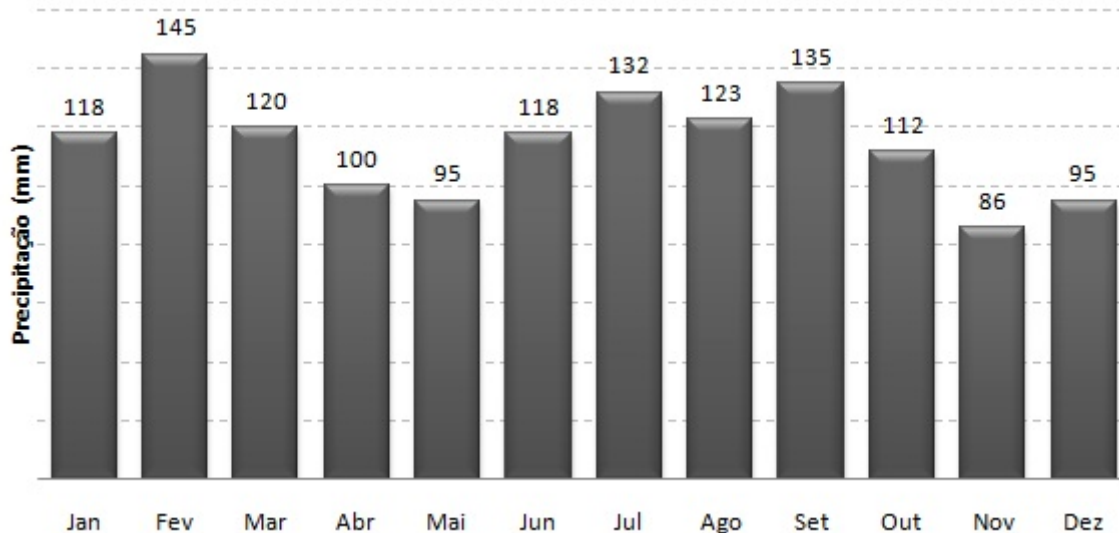
Suponha que, para os próximos anos, a taxa de consumo de etanol e gasolina seja a mesma registrada no período 2010 - 2011.

Baseando-se nesses dados, as previsões para o consumo de etanol e gasolina em 2013 são iguais a, respectivamente,

- a) 19 e 28.
- b) 13 e 33.
- c) 16 e 33.
- d) 16 e 38.
- e) 13 e 38.

30.

O gráfico mostra dados climatológicos da cidade de Pelotas (RS), coletados durante um ano pelo Centro de Pesquisas e Previsões Meteorológicas da Universidade Federal de Pelotas (CPPMet – UFPel).



Dados disponíveis em <http://pt.wikipedia.org/wiki/Pelotas>. Acesso em 06 set. 2012.

No ano, a cidade registrou 1.379 mm de precipitação. Nesse período, o número de meses em que a precipitação, em mm, ficou acima da média é igual a

- a) 3.
- b) 5.
- c) 6.
- d) 7.
- e) 8.

LEGISLAÇÃO

31.

Considere as seguintes afirmativas, tendo em vista o Art. 37 da Constituição Federal de 1988:

- I - O prazo de validade do concurso público será de até 2(dois) anos, prorrogável uma vez por igual período.
- II - Os cargos em comissão e as funções de confiança serão exercidos, preferencialmente, por servidores ocupantes de cargo de carreira técnica ou profissional, nos casos e condições previstos em lei.
- III - A lei estabelecerá os casos de contratação por tempo determinado para atender a necessidade temporária de excepcional interesse público.

Está(ão) correta(s)

- a) apenas I.
- b) apenas III.
- c) apenas I e II.
- d) apenas II e III.
- e) I, II e III.

32.

De acordo com o a Lei nº 8.112/90, é proibido ao servidor público

- a) retirar, sem autorização prévia, qualquer documento ou objeto da repartição.
- b) requerer licença por motivo de doença em pessoa da família.
- c) solicitar licença para tratamento de assunto de interesse particular.
- d) utilizar os serviços médicos da instituição de maneira habitual.
- e) cumprir ordens superiores, exceto quando manifestadamente ilegais.

33.

Em caso de afastamentos ou impedimentos legais do titular, na substituição de servidores em cargos ou função de direção ou chefia e dos ocupantes de cargos de natureza especial, o valor pecuniário da substituição será pago na proporção dos dias de efetiva substituição que excederem a

- a) 10 dias alternados.
- b) 20 dias alternados.
- c) 30 dias consecutivos.
- d) 40 dias consecutivos.
- e) 50 dias alternados.

34.

Analise as afirmativas sobre o direito de férias assegurado ao servidor público.

- I - As férias podem ser acumuladas até o máximo de 3(três) períodos, em qualquer situação.
- II - O período de 30 dias de férias poderá ser usufruído somente após o término do estágio probatório.
- III - O período de gozo das férias pode ser parcelado em até 3(três) etapas, mediante solicitação e no interesse da Administração Pública.

Está(ão) correta(s)

- a) apenas I.
- b) apenas II.
- c) apenas III.
- d) apenas I e II.
- e) apenas II e III.

35.

Conforme a Constituição Federal, o servidor será aposentado compulsoriamente

- a) aos setenta e cinco anos de idade, com proventos proporcionais ao tempo de serviço.
- b) aos setenta anos de idade, com proventos proporcionais ao tempo de serviço.
- c) aos setenta anos de idade, com proventos integrais, independente do tempo de serviço.
- d) aos setenta e cinco anos de idade, com proventos integrais, independente do tempo de serviço.
- e) independente da idade e do tempo de serviço.

INFORMÁTICA

36.

Um software malicioso é um software intencionalmente incluído ou inserido em um sistema para um propósito prejudicial. Nesse contexto, analise as informações relacionadas aos vírus de computador.

- I - Um vírus pode estar anexado a um programa de computador.
- II - Uma maneira de se prevenir, detectar e eliminar um vírus é através de um programa denominado de WinZip.
- III - A infecção de um vírus pode se propagar de um computador para outro, mesmo que ambos estejam desligados.

Está(ão) correta(s)

- a) apenas I.
- b) apenas II.
- c) apenas III.
- d) apenas I e II.
- e) apenas II e III.





37.

O Windows XP possui um sistema de arquivos próprio, o qual é denominado

- a) ext.
- b) ext3.
- c) ext2.
- d) NTFS.
- e) ReiserFS.

38.

Considerando o aplicativo BrOffice.org Writer 3.2.1, relacione as colunas.

1.  () Visualiza uma página antes de imprimir.
2.  () Salva o documento que se está trabalhando em arquivo.
3.  () Especifica o fator de zoom da exibição da página atual.
4.  () Habilita o texto selecionado em negrito.

A sequência correta é

- a) 4 - 2 - 3 - 1.
- b) 3 - 2 - 4 - 1.
- c) 4 - 1 - 3 - 2.
- d) 4 - 3 - 2 - 1.
- e) 3 - 1 - 4 - 2.

39.

No Microsoft Word 2007 e no BrOffice.org Writer 3.2.1, com um documento editado, utiliza-se a opção **CTRL + P** para

- a) abrir novo documento.
- b) imprimir o documento editado.
- c) excluir o documento editado.
- d) selecionar todo o documento.
- e) salvar o documento editado.

40.

No Microsoft Excel 2007, para inserção de uma nova planilha na pasta de trabalho em edição, pode-se utilizar o atalho

- a) **CTRL + F1.**
- b) **CTRL + F2.**
- c) **SHIFT + F10.**
- d) **SHIFT + F11.**
- e) **CTRL + SHIFT + F4.**